

Nome: _____ nº: _____ T. _____ Data: _____

6.1.10b Comparação, Ordem Crescente e Decrescente, Reta Numerada

1. Efetue os cálculos e complete com os símbolos de $>$, $<$ ou $=$.

a) $22 : 2$ ___ 4×3

e) $8 + 23$ ___ $59 - 23$

i) 5×23 ___ $339 : 3$

b) 5×5 ___ $48 : 2$

f) 3×2 ___ $12 : 2$

j) $15 : 3$ ___ $60 : 6$

c) 12×11 ___ 13×10

g) 230×10 ___ 100×23

k) $28 - 13$ ___ $65 - 54$

d) $99 : 3$ ___ $132 : 4$

h) $15 : 5$ ___ $12 : 4$

l) 8×5 ___ $3 + 38$

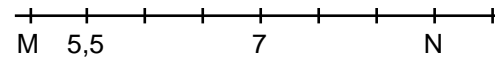
2. Coloque a tabela abaixo em

ordem:	Crescente
203	
909	
902	
293	
393	
903	
209	
392	

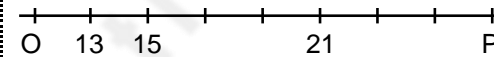
3. Coloque a tabela abaixo em

ordem:	Decrescente
456	
654	
604	
546	
406	
565	
605	
465	

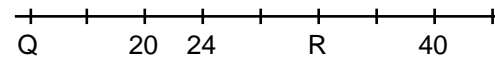
4. Qual o valor de M e N?



5. Qual o valor de O e P?



6. Qual o valor de Q e R?



7. Qual o valor de S e T?

