

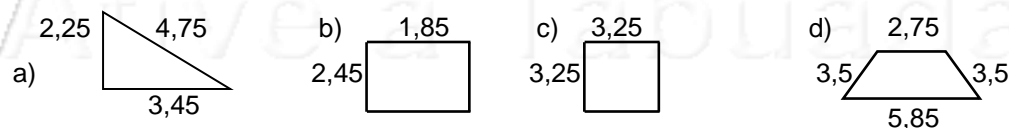
Nome: _____ nº: _____ T. _____ Data: _____

6.2.20a Racionais - Multiplicação e Subtração

1. Complete a tabela:

x	25	2,5	2	3,2	4,08
0,1					
0,35					
0,5					
2,2					
3					

2. Calcule o perímetro:

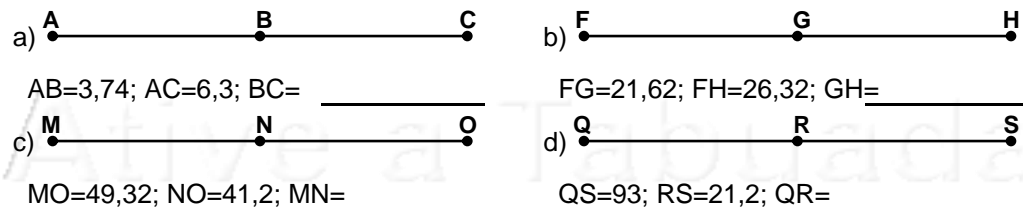


P = _____ P = _____ P = _____ P = _____

3. Na tabela abaixo, subtraia o maior número do menor, e complete-a:

÷	0,48	0,75	1,5	2,4	3
0,01					
0,1					
0,12					
0,2					
0,25					

4. Observe as figura abaixo, com suas medidas, e calcule os valores pedidos.



www.ativeatabuada.com.br

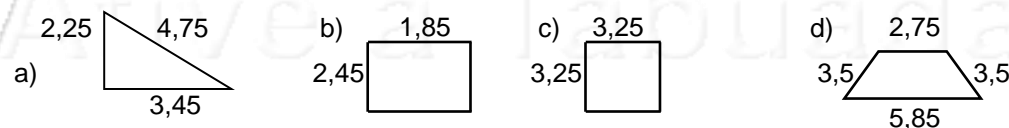
Nome: _____ nº: _____ T. _____ Data: _____

6.2.20a Racionais - Multiplicação e Subtração

1. Complete a tabela:

x	25	2,5	2	3,2	4,08
0,1					
0,35					
0,5					
2,2					
3					

2. Calcule o perímetro:

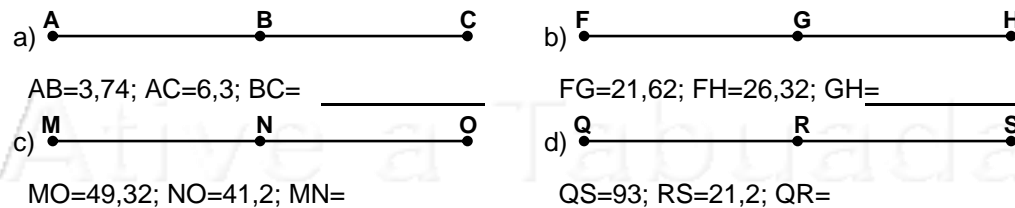


P = _____ P = _____ P = _____ P = _____

3. Na tabela abaixo, subtraia o maior número do menor, e complete-a:

÷	0,48	0,75	1,5	2,4	3
0,01					
0,1					
0,12					
0,2					
0,25					

4. Observe as figura abaixo, com suas medidas, e calcule os valores pedidos.



www.ativeatabuada.com.br