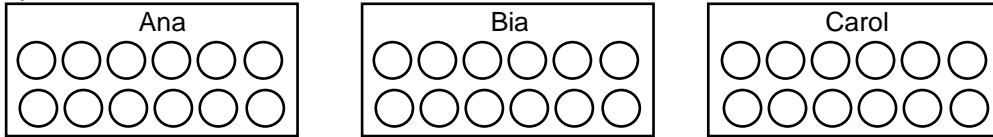


Nome: \_\_\_\_\_ nº: \_\_\_\_\_ T. \_\_\_\_\_ Data: \_\_\_\_\_


### 6.3.5a Separando Quantidades

1. As mães de Ana, Bia e Carol foram a feira e compraram um dúzia de laranjas cada. Ana separou a metade das laranjas ( $1/2$ ), Bia separou dois quartos ( $2/4$ ) e Carol separou três sextos ( $3/6$ ). Pinte o quanto cada uma comprou e responda as questões.



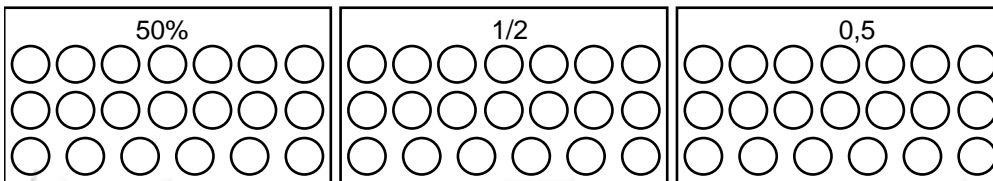
- a) Quem separou mais laranjas? \_\_\_\_\_  
b) Quem separou menos laranjas? \_\_\_\_\_

2. João tem 30 cards, Edu tem a metade dos cards de João. Felipe tem cinco sextos dos cards de João. Gil diz que tem quatro quintos dessa quantia. Pinte e escreva as quantias que cada um tem:



- a) Quem tem mais cards? \_\_\_\_\_  
b) Quem tem menos cards? \_\_\_\_\_

3. Nas figuras abaixo pinte cinquenta por cento (50%) dos vinte círculos, metade ( $1/2$ ) dos vinte círculos e cinco décimos (0,5) dos vinte círculos.



- a) Qual grupo tem mais círculos pintados? E qual tem menos círculos?  
\_\_\_\_\_