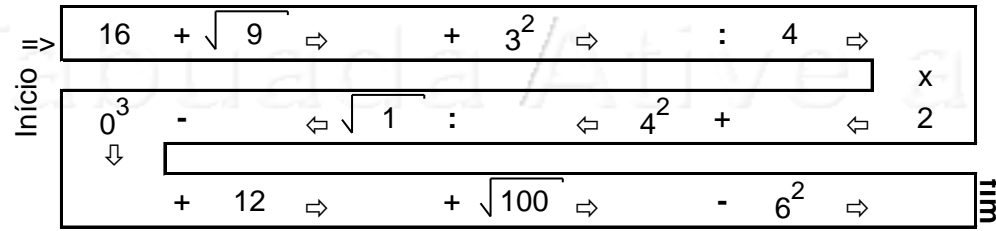
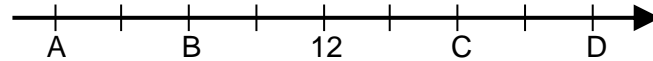


1. 6.4.12b Valores Ocultos



2. Os números 8 e 14 ocupam na reta numérica abaixo as posições indicadas respectivamente pelas letras:

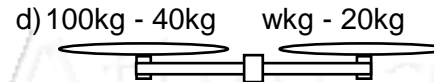
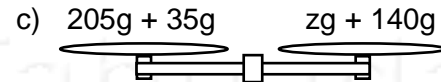
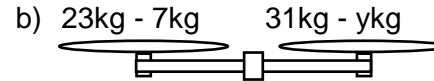


- a) D e A b) A e C c) B e C d) D e B

3. O valor de $5,3 \times 2,1$ é:

- a) 10,6 b) 7,4 c) 111,3 d) 11,13

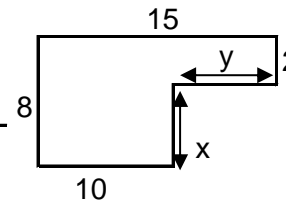
4. Descubra o valor oculto e deixe as balanças em equilíbrio:



5. Observe a figura ao lado:

- a) Quanto mede x? c) Qual o seu perímetro?

- b) Quanto mede y? d) Qual a área dessa figura?



6. O dobro de um número diminuído de seis é quatorze. Qual é o número?