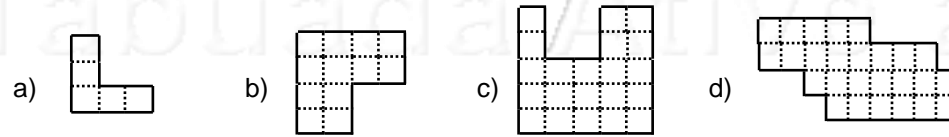


Nome: _____ nº: _____ T. _____ Data: _____

6.4.7a Perímetro e Área

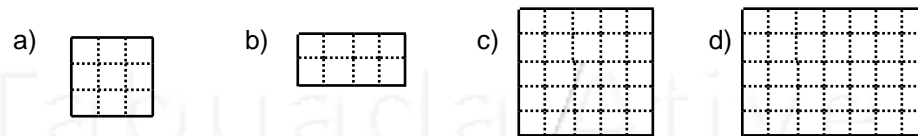
1. Calcule o perímetro e a área das seguintes figuras na unidade: \square



P = _____ P = _____ P = _____ P = _____

A = _____ A = _____ A = _____ A = _____

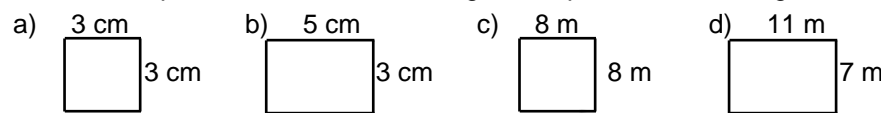
2. Calcule o perímetro e a área dos seguintes quadrados e retângulos:



P = _____ P = _____ P = _____ P = _____

A = _____ A = _____ A = _____ A = _____

3. Calcule o perímetro e a área dos seguintes quadrados e retângulos:



P = _____ P = _____ P = _____ P = _____

A = _____ A = _____ A = _____ A = _____

4. O perímetro de um quadrado é 12. Quanto mede o seu lado?

5. A área de um quadrado é 25. Quanto mede um de seus lados?

6. A área de um quadrado é 36. Quanto mede seu perímetro?

7. O lado de um quadrado mede 7. Quanto mede sua área? E seu perímetro?
