

Nome: _____ nº: _____ T. _____ Data: _____

6.7.12b Testes e Classificação de Quadriláteros

1. Não é um paralelogramo:

- a) Trapézio b) Quadrado c) Retângulo d) Losango

2. Não é um quadrilátero

- a) Quadrado b) Losango c) Trapézio d) Triângulo

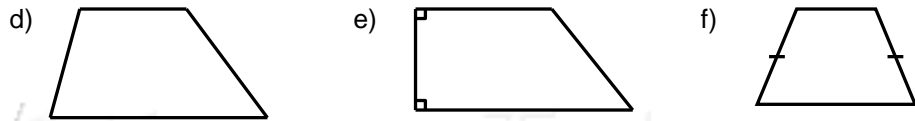
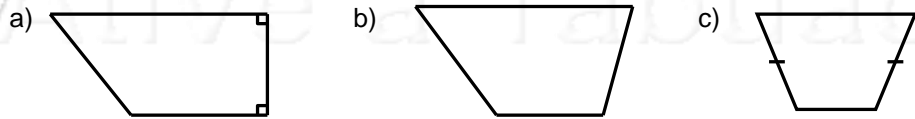
3. Possui apenas dois lados opostos paralelos:

- a) Retângulo b) Paralelogramo c) Trapézio d) Losango

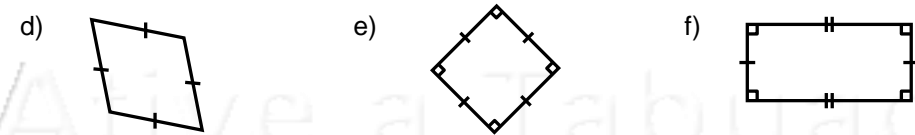
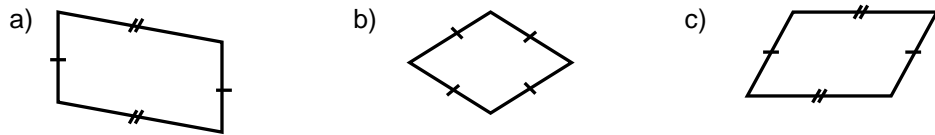
4. Possui lados opostos iguais e nenhum ângulo reto:

- a) Círculo b) Paralelogramo c) Retângulo d) Quadrado

5. Classifique os Trapézios em Retângulo, Isósceles ou Escaleno:



6. Classifique em Quadrado, Retângulo, Losango ou Paralelogramo:



Nome: _____ nº: _____ T. _____ Data: _____

6.7.12b Testes e Classificação de Quadriláteros

1. Não é um paralelogramo:

- a) Trapézio b) Quadrado c) Retângulo d) Losango

2. Não é um quadrilátero

- a) Quadrado b) Losango c) Trapézio d) Triângulo

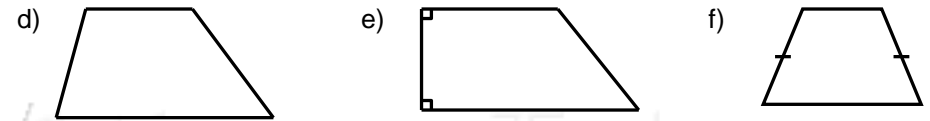
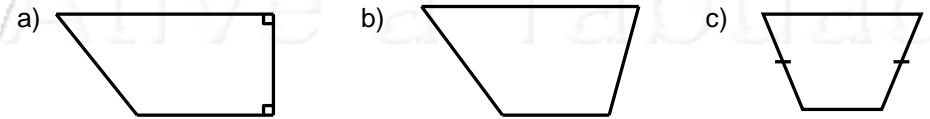
3. Possui apenas dois lados opostos paralelos:

- a) Retângulo b) Paralelogramo c) Trapézio d) Losango

4. Possui lados opostos iguais e nenhum ângulo reto:

- a) Círculo b) Paralelogramo c) Retângulo d) Quadrado

5. Classifique os Trapézios em Retângulo, Isósceles ou Escaleno:



6. Classifique em Quadrado, Retângulo, Losango ou Paralelogramo:

