


Nome: _____ nº: _____ T. _____ Data: _____

6.7.2a Classificação de Polígonos

1. Qual a quantidade de polígonos:

a) Abertos	
b) Fechados	
c) 1 vértice	
d) 2 vértices	
e) 3 vértices	
f) 4 vértices	
g) 5 vértices	
h) 2 lados	
i) 3 lados	
j) 4 lados	
k) 5 lados	




ome: _____ nº: _____ T. _____ Data: _____

6.7.2a Classificação de Polígonos

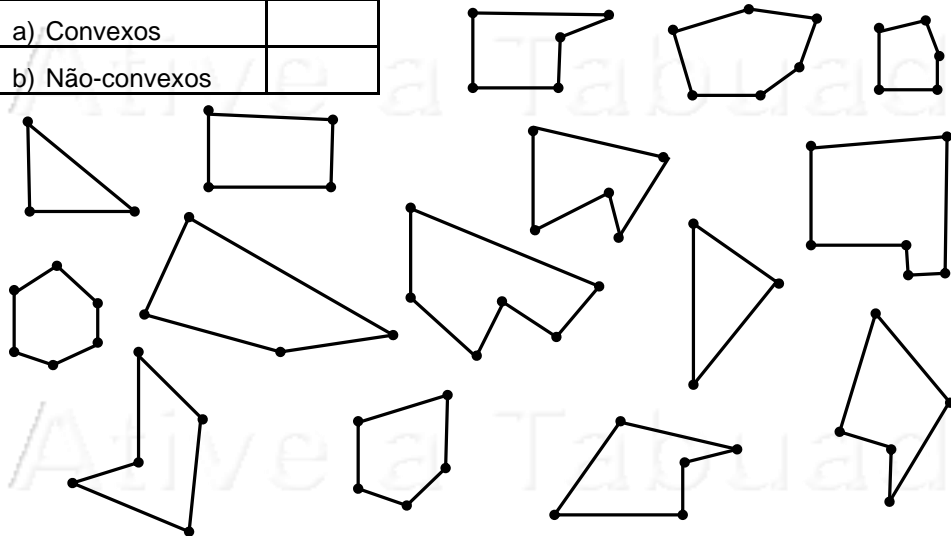
1. Qual a quantidade de polígonos:

a) Abertos	
b) Fechados	
c) 1 vértice	
d) 2 vértices	
e) 3 vértices	
f) 4 vértices	
g) 5 vértices	
h) 2 lados	
i) 3 lados	
j) 4 lados	
k) 5 lados	



2. Qual a quantidade de polígonos:

a) Convexos	
b) Não-convexos	



2. Qual a quantidade de polígonos:

a) Convexos	
b) Não-convexos	

