


Nome: _____ nº: _____ T. _____ Data: _____

6.7.2b Classificação de Polígonos

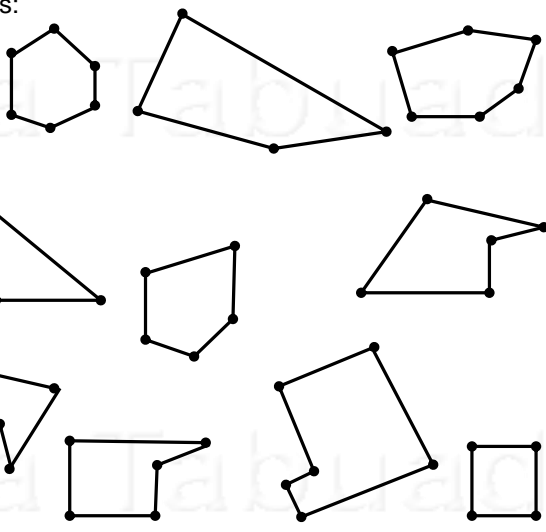
1. Qual a quantidade de polígonos:

| | |
|---------------|--|
| a) Abertos | |
| b) Fechados | |
| c) 1 vértice | |
| d) 2 vértices | |
| e) 3 vértices | |
| f) 4 vértices | |
| g) 5 vértices | |
| h) 2 lados | |
| i) 3 lados | |
| j) 4 lados | |
| k) 5 lados | |



2. Qual a quantidade de polígonos:

| | |
|-----------------|--|
| a) Convexos | |
| b) Não-convexos | |




ome: _____ nº: _____ T. _____ Data: _____

6.7.2b Classificação de Polígonos

1. Qual a quantidade de polígonos:

| | |
|---------------|--|
| a) Abertos | |
| b) Fechados | |
| c) 1 vértice | |
| d) 2 vértices | |
| e) 3 vértices | |
| f) 4 vértices | |
| g) 5 vértices | |
| h) 2 lados | |
| i) 3 lados | |
| j) 4 lados | |
| k) 5 lados | |



2. Qual a quantidade de polígonos:

| | |
|-----------------|--|
| a) Convexos | |
| b) Não-convexos | |

