

Nome: \_\_\_\_\_ nº: \_\_\_\_\_ T. \_\_\_\_\_ Data: \_\_\_\_\_

### 6.7.3a Testes e Classificação de Polígonos

1. Não é elemento fundamental da geometria:

- a) Plano      b) Figura      c) Reta      d) Ponto

2. O segmento de reta tem:

- a) Apenas começo      b) Começo e fim      c) Apenas fim      d) Só o fim

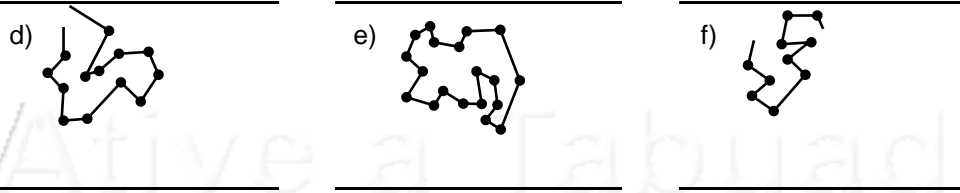
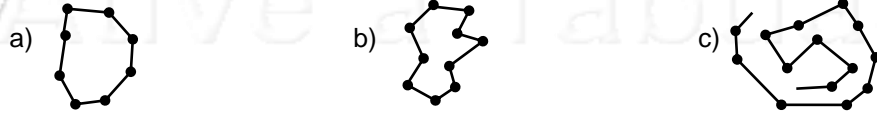
3. O vértice é a intersecção de:

- a) dois pontos      b) duas paralelas      c) duas figuras      d) duas retas

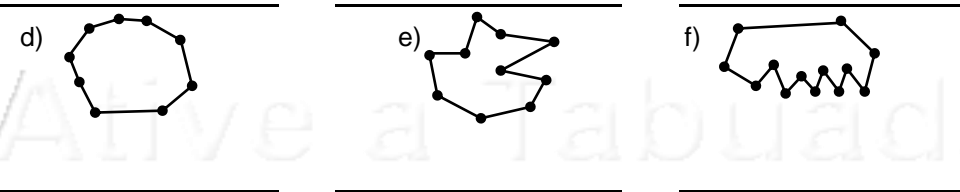
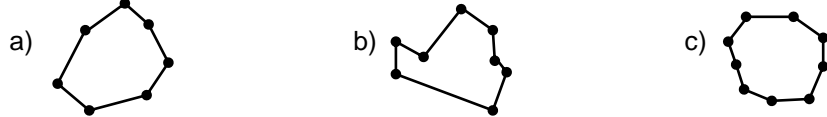
4. Tem origem e não tem fim:

- a) Reta      b) Segmento      c) Semi-reta      d) Figura

5. Classifique os polígonos em Abertos ou Fechados:



6. Classifique os polígonos em Convexo ou Não-convexo:



Nome: \_\_\_\_\_ nº: \_\_\_\_\_ T. \_\_\_\_\_ Data: \_\_\_\_\_

### 6.7.3a Testes e Classificação de Polígonos

1. Não é elemento fundamental da geometria:

- a) Plano      b) Figura      c) Reta      d) Ponto

2. O segmento de reta tem:

- a) Apenas começo      b) Começo e fim      c) Apenas fim      d) Só o fim

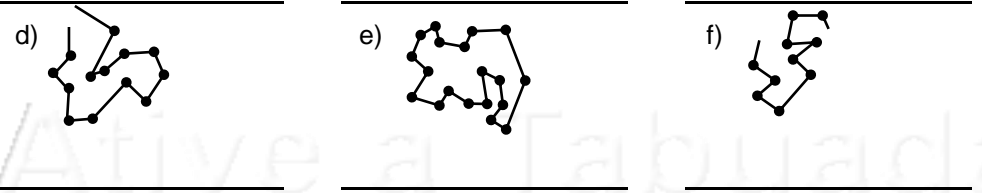
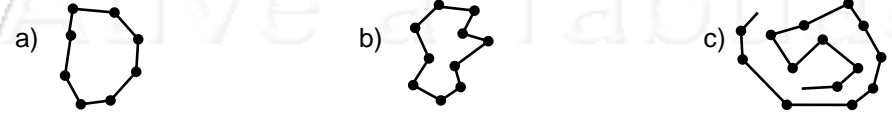
3. O vértice é a intersecção de:

- a) dois pontos      b) duas paralelas      c) duas figuras      d) duas retas

4. Tem origem e não tem fim:

- a) Reta      b) Segmento      c) Semi-reta      d) Figura

5. Classifique os polígonos em Abertos ou Fechados:



6. Classifique os polígonos em Convexo ou Não-convexo:

