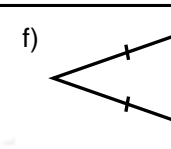
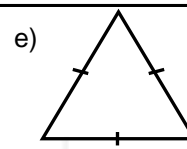
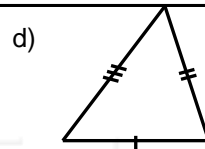
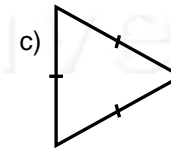
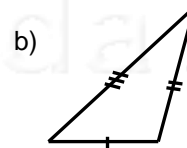
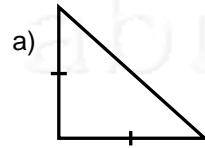


Nome: _____ nº: _____ T. _____ Data: _____

6.7.11a Testes e Classificação de Triângulos

1. Triângulo que possui três lados iguais:
a) Retângulo b) Isósceles c) Equilátero d) Escaleno
2. Triângulo que possui um ângulo obtuso (mais de 90 graus):
a) Isósceles b) Obtusângulo c) Acutângulo d) Retângulo
3. Triângulo que possui três lados diferentes:
a) Escaleno b) Isósceles c) Acutângulo d) Equilátero
4. Triângulo que tem um ângulo reto:
a) Obtusângulo b) Isósceles c) Equilátero d) Retângulo
5. Classifique os triângulos em Equilátero, Isósceles ou Escaleno:



6. Classifique os triângulos em Acutângulo, Obtusângulo ou Retângulo:

