

Nome: _____ nº: _____ T. _____ Data: _____

6.7.3b Testes e Classificação de Polígonos

1. Uma folha de sulfite em branco dá uma idéia de:

- a) Ponto b) Reta c) Plano d) Figura

2. É infinito.

- a) a reta b) o segmento c) a semi-reta d) o ponto

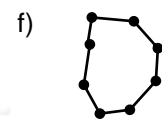
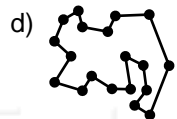
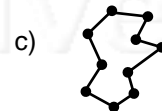
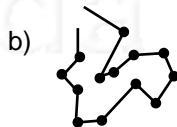
3. Por um ponto pode-se passar infinitas:

- a) Paralelas b) Retas c) Aberturas d) Figuras

4. Tem origem e tem fim:

- a) Paralelas b) Reta c) Semi-reta d) Segmento

5. Classifique os polígonos em Abertos ou Fechados:



6. Classifique os polígonos em Convexo ou Não-convexo:

