








Nome: _____ nº: _____ T. _____ Data: _____

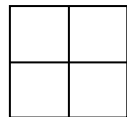
6.7.7a Figuras Planas



1. Qual a quantidade de figuras:

	Pequenas	Médias	2. Escreva os nomes das figuras:
			
			
			
			
			
			

3. Quantos quadrados, triângulos ou retângulos tem cada uma das figuras?





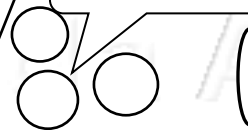


4. Humor:

Ele se acha todo certinho.



Ela tá se achando muito magra.



Sabe o que o zero disse para o oito?

R. Cara que cinto maneiro!