

Nome: _____ nº: _____ T. _____ Data: _____

6.8.3a Testes e Classificação de não Poliedros e Pirâmides

1. Sólido geométrico que não possui base:

- a) Esfera b) Cone c) Cilindro d) Cubo

2. Possui um único vértice:

- a) Cilindro b) Hexaedro c) Cone d) Esfera

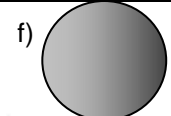

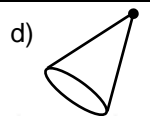
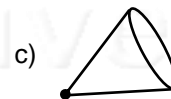
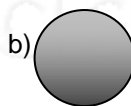
3. Têm duas bases circulares:

- a) Paralelepípedo b) Cilindro c) Esfera d) Cone

4. Sólido geométrico que não pertence aos não-poliedros:

- a) Cone b) Esfera c) Cilindro d) Cubo

5. Classifique em Esfera, Cone ou Cilindro:



6. Possui seis faces idênticas e oito vértices:

- a) Paralelepípedo b) Pirâmide c) Cubo d) Prisma

7. Pirâmide que tem cinco vértices:

- a) Triangular b) Quadrangular c) Pentagonal d) Cúbica

8. Classifique as pirâmides em Triangular, Quadrangular ou Pentagonal:

